



Ufficio federale dei trasporti UFT

Domande d'esame per Conducente cat B

Name / Vorname:

Nom et prénom:

KTU: Cognome e nome:

A

	Domande i (Fragen i)	deutsch français italienisch	Antworten répondre Risposte	Punkte
1	Quando si capovolge un battello?			1
2	Quali momenti di sbandamento vanno considerati per stabilire la sufficiente stabilità del battello?			3

Sign:

Sign:

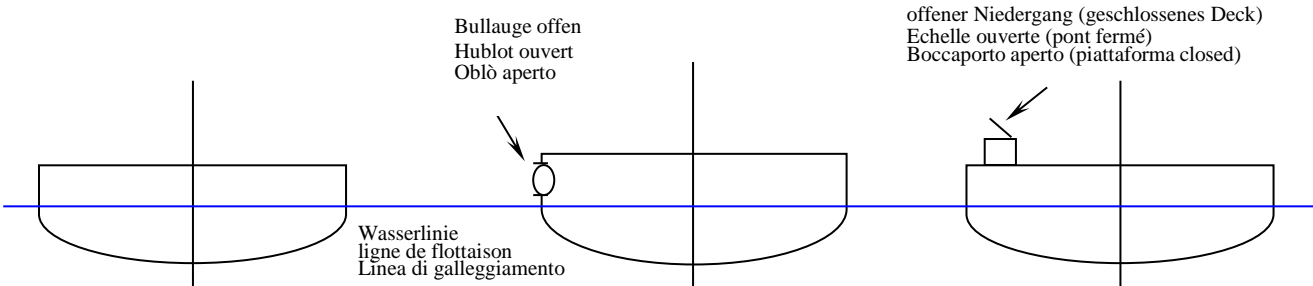
Domande d'esame per Conducente cat B

Name / Vorname:

Nom et prénom:

KTU: Cognome e nome:

A

	Domande i (Fragen i)	deutsch français italienisch	Antworten répondre Risposte	Punkte
3	Indicate in ognuno degli schizzi a lato il francobordo e la distanza di sicurezza.			6
4	Che cosa è vietato nello spazio più anteriore sottocoperta (gavone di prora) di un battello?			1
5	Spiegate il concetto di "assetto".			1

Sign:

Erstellt am 28.02.2017/ BAV

Domande d'esame per Conducente cat B

Name / Vorname:

Nom et prénom:

Cognome e nome:

KTU:

A

	Domande i (Fragen i)	deutsch français italienisch	Antworten répondre Risposte	Punkte
6	Qual è l'angolo massimo consentito di sbandamento del battello in caso di spostamento laterale di persone?			1
7	Se vi viene rilasciata la licenza di condurre battelli della categoria B II/1, quali altre categorie sono comprese?			1
8	Cos'è una paratia?			1
9	Qual è la definizione di "immersione" di un battello secondo le disposizioni esecutive dell'ordinanza sulla costruzione dei battelli?			1

Sign:

Erstellt am 28.02.2017/ BAV

Domande d'esame per Conducente cat B

Name / Vorname:

Nom et prénom:

Cognome e nome:

KTU:

A

	Domande i (Fragen i)	deutsch français italienisch	Antworten répondre Risposte	Punkte
10	Indicate quattro punti in cui un battello passeggeri deve essere munito di illuminazione d'emergenza.			2
	Punteggio realizzato			
	Punteggio massimo			18

Sign:

Erstellt am 28.02.2017/ BAV

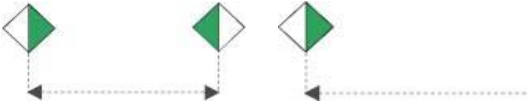

Name / Vorname:

Nom et prénom:

Cognome e nome:

KTU:

B

	Domande i (Fragen i)	deutsch français italienisch	Antworten répondre Risposte	Punkte
1	<p>Spiegate il significato dei segnali</p> 			1
2	<p>e disegnatte l'ostacolo</p> 			1
3	<p>Quali luci devono portare, sui canali o sui fiumi, gli impianti galleggianti e i natanti dai quali si eseguono lavori in acqua come pure i natanti incagliati o affondati?</p>			1

Sign:

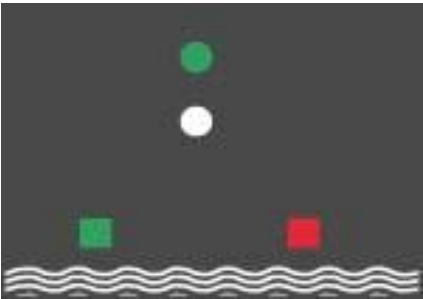
Name / Vorname:

Nom et prénom:

Cognome e nome:

KTU:

B

Domande i	(Fragen i)	deutsch français italienisch	Antworten répondre Risposte	Punkte
4	<p>Spiegate il significato dei segnali</p> <p>Vedete un battello con i seguenti fanali. Di che battello si tratta e in che direzione naviga?</p> 			2
Punteggio realizzato				
Punteggio massimo				5

Sign:

Domande d'esame per Conduuttore cat B

Name / Vorname:

Nom et prénom:

Cognome e nome:

KTU:

C

Domande i	(Fragen i)	deutsch français italienisch	Antworten répondre Risposte	Punkte
1	Indicate cinque settori disciplinati dalla legge federale sulla navigazione interna.			5
2	Qual'è la larghezza della zona rivierasca esterna prescritta?			1
3	Come vanno segnalate nel lago di Costanza le reti, le nasse e gli altri attrezzi da pesca che potrebbero intralciare la navigazione?			1
4	A quanti gradi si trova il nord nella rosa di lettura della bussola?			1
5	A partire da quanti metri di distanza dalle entrate dei porti e dai luoghi di stazionamento dei battelli per passeggeri è consentita la balneazione?			1

Sign:

Domande d'esame per Conducente cat B

Name / Vorname:

Nom et prénom:

Cognome e nome:

KTU:

C

	Domande i (Fragen i)	deutsch français italienisch	Antworten répondre Risposte	Punkte
6	Indicate due natanti che non sono sottoposti all'assicurazione obbligatoria.			1
7	In quale misura il conduttore che accompagna un allievo conduttore è responsabile delle infrazioni che l'allievo commette?			2
8	Con quale frequenza devono farsi visitare da un medico di fiducia i conduttori titolari di una licenza della categoria B o C?			1
9	A quali tratti e zone navigabili si applica l'ordinanza della Commissione internazionale della navigazione per la navigazione sul lago di Costanza?			1
10	Fornite due esempi di condizioni atmosferiche che possono determinare scarsa visibilità.			1

Sign:

Domande d'esame per Conducente cat B

Name / Vorname:

Nom et prénom:

Cognome e nome:

KTU:

C

Domande i	(Fragen i)	deutsch français italienisch	Antworten répondre Risposte	Punkte
11	A partire da quale concentrazione di alcol nel sangue una persona che conduce un natante a titolo non professionale è considerata in ogni caso inidonea alla guida per influsso alcolico (ebrietà)?			1
12	Qual è il campo d'applicazione del brevetto radar ufficiale?			1
13	Quale distanza minima devono mantenere i natanti che devono evitare altri natanti nei confronti dei battelli di pescatori professionisti e dei convogli rimorchiati?			2
14	In caso di incrocio in prossimità di un ponte, quali battelli godono di priorità sia in risalita sia in discesa?			1
15	Qual è la definizione di «battello con precedenza» nell'ordinanza sulla navigazione interna?			1
Punteggio realizzato				
Punteggio massimo				21

Sign: