



Office fédéral des transports OFT

## Questions pour l'examen des conducteurs de bateaux, catégorie B

Name / Vorname:

Nom et prénom:

Cognome e nome: .....

KTU: .....

**A**

	Questions en français f (Fragen f)	deutsch français italienisch	Antworten répondre Risposte	Punkte
1	Quand un bateau chavire-t-il?			1
2	Quels sont les moments de d'inclinaison qui doivent être pris en considération pour une stabilité suffisante?			3

Sign: .....

# Questions pour l'examen des conducteurs de bateaux, catégorie B

Name / Vorname:

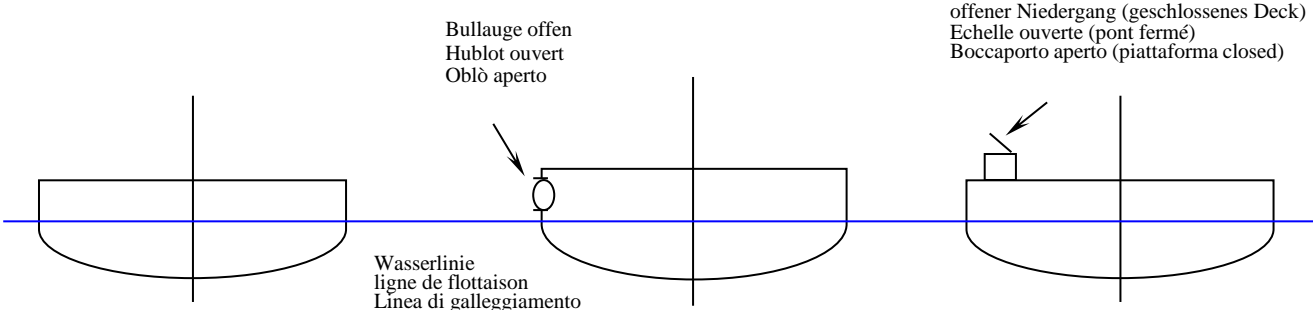
Nom et prénom:

Cognome e nome:

KTU: .....

.....

**A**

	Questions en français f (Fragen f)	deutsch français italienisch	Antworten répondre Risposte	Punkte
3	Inscrivez dans chaque croquis ci-contre respectivement le franc-bord et la distance de sécurité	 <p>           Bullauge offen            Hublot ouvert            Oblò aperto         </p> <p>           Wasserlinie            ligne de flottaison            Linea di galleggiamento         </p> <p>           offener Niedergang (geschlossenes Deck)            Echelle ouverte (pont fermé)            Boccaporto aperto (piattaforma closed)         </p>		6
4	Qu'est-ce qui ne doit pas être installé dans l'espace avant qui se trouve sous le pont du bateau (coqueron avant)?			1
5	Expliquez le terme "d'assiette".			1

Sign: .....

28.02.2017/ OFT

## Questions pour l'examen des conducteurs de bateaux, catégorie B

Name / Vorname:

Nom et prénom:

Cognome e nome: .....

KTU: .....

**A**

	Questions en français f (Fragen f)	deutsch französisch italienisch	Antworten répondre Risposte	Punkte
6	Quel est l'angle de gîte maximal autorisé d'un bateau en cas de déplacement latéral des passagers?			1
7	Vous acquérez le permis de conducteur pour les bateaux de la catégorie B II/1. Quelles autres catégories y sont incluses?			1
8	Qu'est-ce qu'une cloison?			1
9	Quelle est la définition du "tirant d'eau" d'un bateau conformément aux dispositions d'exécution de l'ordonnance sur la construction des bateaux?			1

Sign: .....

28.02.2017/ OFT

## Questions pour l'examen des conducteurs de bateaux, catégorie B

Name / Vorname:

Nom et prénom:

Cognome e nome: .....

KTU: .....

**A**

	Questions en français f (Fragen f)	deutsch französisch italienisch	Antworten répondre Risposte	Punkte
10	Citez 4 endroits auxquels il faut prévoir un éclairage de secours sur un bateau à passagers.			2
	Points obtenus			
	Points pouvant être obtenus			18

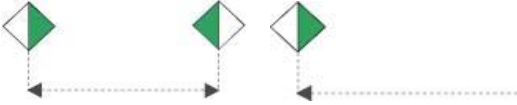

Sign: .....

28.02.2017/ OFT

Name / Vorname: .....  
 Nom et prénom: .....  
 Cognome e nome: .....

KTU: .....

**B**

	Questions en français (Fragen f)	deutsch français italienisch	Antworten répondre Risposte	Punkte
1	Expliquez la signification des signaux 			1
2	et dessinez l'obstacle 			1
3	Quels feux portent les engins flottants, des bateaux d'où sont effectués des travaux dans l'eau et des bateaux échoués ou coulés dans les canaux ou les fleuves?			1

# Questions pour l'examen des conducteurs de bateaux, catégorie B

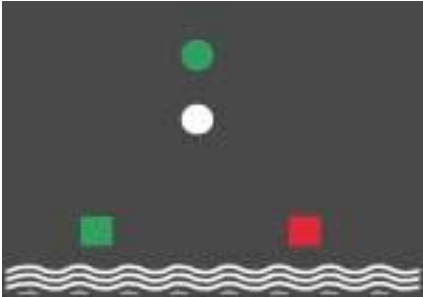
Name / Vorname:

Nom et prénom:

Cognome e nome: .....

KTU: .....

**B**

Questions en français (Fragen f)	deutsch français italienisch	Antworten répondre Risposte	Punkte
<p>Expliquez la signification des signaux</p> <p>Vous voyez un bateau portant les feux suivants. Quel type de bateau est-ce et dans quelle direction est-ce qu'il navigue?</p> <div style="text-align: center;">  </div>			2
Points obtenus			
Points pouvant être obtenus			5

Sign: .....

# Questions pour l'examen des conducteurs de bateaux, catégorie B

Name / Vorname:

Nom et prénom:

Cognome e nome: .....

KTU: .....

**C**

Questions en français (Fragen f)	deutsch français italienisch	Antworten répondre Risposte	Punkte
1 Nommez cinq domaines régis par la loi fédérale sur la navigation intérieure.			5
2 Quel plan d'eau est considéré comme zone riveraine extérieure?			1
3 Sur le lac de Constance, comment faut-il signaler les filets de pêcheurs, les nasses et les autres instruments de pêche qui peuvent entraver la navigation?			1
4 A combien de degrés se trouve le nord dans la rose de lecture de la boussole?			1
5 A quelle distance des débarcadères et des entrées de port des bateaux à passagers la baignade est-elle autorisée?			1

Sign: .....

# Questions pour l'examen des conducteurs de bateaux, catégorie B

Name / Vorname:

Nom et prénom:

Cognome e nome: .....

KTU: .....

**C**

	Questions en français (Fragen f)	deutsch français italienisch	Antworten répondre Risposte	Punkte
6	Citez deux types de bateaux qui sont exemptés de l'obligation de s'assurer?			1
7	Dans quelle mesure un conducteur de bateau qui accompagne un élève de bateau-école est-il responsable des infractions commises par celui-ci?			2
8	A quelle fréquence les conducteurs au bénéfice des permis B et C doivent-ils se faire examiner par un médecin de confiance?			1
9	A quels parcours s'applique l'ordonnance de la Commission internationale concernant la navigation sur le lac de Constance?			1
10	Donnez deux exemples de situations météorologiques considérées comme un temps bouché.			1

Sign: .....



# Questions pour l'examen des conducteurs de bateaux, catégorie B

Name / Vorname:

Nom et prénom:

Cognome e nome: .....

KTU: .....

**C**

Questions en français (Fragen f)	deutsch français italienisch	Antworten répondre Risposte	Punkte
11 A partir de quelle concentration d'alcool dans le sang l'incapacité de conduire due à l'alcool (état d'ébriété) est-elle avérée pour une personne conduisant un bateau à titre non professionnel ?			1
12 Quel est le champ de validité de la patente radar ?			1
13 Quelle distance minimale doivent observer les bateaux tenus de s'éloigner des bateaux de pêche professionnelle et et des convois remorqués?			2
14 Lors de rencontre à proximité des ponts, qui a la priorité tant lors du parcours vers l'amont que de celui vers l'aval?			1
15 Comment la notion de «bateau prioritaire» est-elle définie dans l'ordonnance sur la navigation intérieure?			1
Points obtenus			
Points pouvant être obtenus			21

Sign: .....